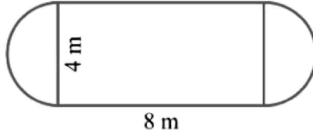


Time: 10 Minutes	Paper Math 7 (T-1)	Total Marks: 10
4th Month, 3rd Week, 2nd Day	Exercise 3.6 Q # (6,7,8)	

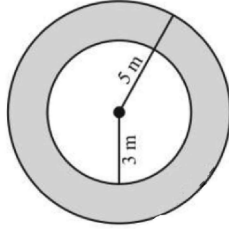
☆ Answer the following questions: درج ذیل سوالات کے جواب دیں۔

Q.1. Find the perimeter and area of the given figure. (1x5=5)

دی گئی شکل کا رقبہ اور احاطہ معلوم کریں۔



Q.2. Find the area of the Shaded region. (1x5=5) سایہ دار علاقے کا رقبہ معلوم کریں۔

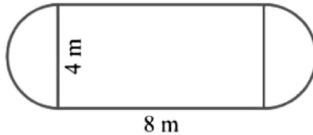


Time: 10 Minutes	Paper Math 7 (T-1)	Total Marks: 10
4th Month, 3rd Week, 2nd Day	Exercise 3.6 Q # (6,7,8)	

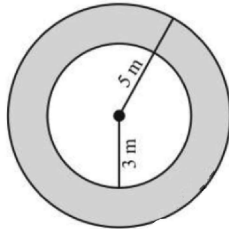
☆ Answer the following questions: درج ذیل سوالات کے جواب دیں۔

Q.1. Find the perimeter and area of the given figure. (1x5=5)

دی گئی شکل کا رقبہ اور احاطہ معلوم کریں۔



Q.2. Find the area of the Shaded region. (1x5=5) سایہ دار علاقے کا رقبہ معلوم کریں۔

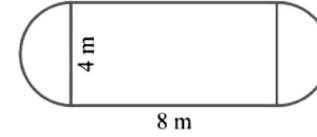


Time: 10 Minutes	Paper Math 7 (T-1)	Total Marks: 10
4th Month, 3rd Week, 2nd Day	Exercise 3.6 Q # (6,7,8)	

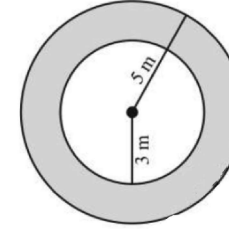
☆ Answer the following questions: درج ذیل سوالات کے جواب دیں۔

Q.1. Find the perimeter and area of the given figure. (1x5=5)

دی گئی شکل کا رقبہ اور احاطہ معلوم کریں۔



Q.2. Find the area of the Shaded region. (1x5=5) سایہ دار علاقے کا رقبہ معلوم کریں۔

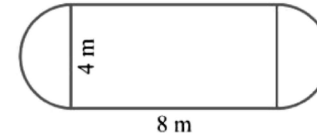


Time: 10 Minutes	Paper Math 7 (T-1)	Total Marks: 10
4th Month, 3rd Week, 2nd Day	Exercise 3.6 Q # (6,7,8)	

☆ Answer the following questions: درج ذیل سوالات کے جواب دیں۔

Q.1. Find the perimeter and area of the given figure. (1x5=5)

دی گئی شکل کا رقبہ اور احاطہ معلوم کریں۔



Q.2. Find the area of the Shaded region. (1x5=5) سایہ دار علاقے کا رقبہ معلوم کریں۔

